



ПРИМЕРАК ЗА УЧЕНИКА

Република Србија
МИНИСТАРСТВО ПРОСВЕТЕ
ЗАВОД ЗА ВРЕДНОВАЊЕ КВАЛИТЕТА
ОБРАЗОВАЊА И ВАСПИТАЊА

ЗАВРШНИ ИСПИТ НА КРАЈУ ОСНОВНОГ ОБРАЗОВАЊА И ВАСПИТАЊА

ТЕСТ ГЕОГРАФИЈА

ИДЕНТИФИКАЦИОНИ ОБРАЗАЦ

ИМЕ, ИМЕ ЈЕДНОГ РОДИТЕЉА/ДРУГОГ ЗАКОНСКОГ ЗАСТУПНИКА, ПРЕЗИМЕ УЧЕНИКА

ИДЕНТИФИКАЦИОНИ БРОЈ УЧЕНИКА

--	--	--	--	--	--	--	--	--	--

ОСНОВНА ШКОЛА _____
МЕСТО _____
ОПШТИНА _____


ПОТПИС ДЕЖУРНОГ НАСТАВНИКА

Резултати се могу погледати на порталу **Моја средња школа**: <https://mojasrednjaskola.gov.rs> уносом јединственог идентификационог броја ученика (десетоцифрена шифра ученика). Ради преузимања скенираног теста у пдф формату, у делу где су доступни резултати завршног испита, неопходно је унети јединствену шифру теста.

Јединствена шифра теста:

Уколико родитељ / други законски заступник има налог на порталу **Мој есДневник** или има налог на **Порталу за електронску идентификацију eID.gov.rs**, којим приступа порталу **Мој есДневник**, тада, осим увида у резултате завршног испита, на порталу **Моја средња школа** може искористити и неку од следећих електронских услуга: подношење приговора на резултате завршног испита, подношење електронске листе жеља и подношење електронске пријаве за упис у средњу школу.

УПУТСТВО ЗА РАД

- Тест који треба да решиш има **20 задатака**. За рад је предвиђено **120 минута**.
- Задатке не мораш да радиш према редоследу којим су дати.
- Током рада можеш да користиш графитну оловку и гумицу, али не смеш да користиш калкулатор и мобилни телефон.
- Коначне одговоре и поступак напиши **плавом хемијском оловком**.
- Одговор који је написан само графитном, црном хемијском или „пиши-бриши“ оловком неће бити признат.
- У задацима са понуђеним одговорима неће бити признати преправљани одговори.
- У задацима са понуђеним одговорима, у којима је само један тачан одговор, добијаш 0 бодова ако поред тачног одговора означиш и неки нетачан.
- Обрати пажњу на то да се задаци разликују по начину на који треба да даш одговор.
- Немој ништа уписивати на QR кодове () који се налазе на свакој страни теста.

У неким задацима изабраћеш тачан одговор тако што ћеш обојити одговарајући кружић. У задацима у којима постоји више тачних одговора потребно је обојити више кружића. Води рачуна о томе да кружић мора бити обојен, јер ће ти само тако одговор бити признат.

ПРИМЕР ОБОЈЕНИХ КРУЖИЋА
У задатку са једним тачним одговором
Који је главни град Републике Србије? Обој кружић испред тачног одговора. <input type="radio"/> Нови Сад <input checked="" type="radio"/> Београд <input type="radio"/> Ниш <input type="radio"/> Крушевац
У задатку са више тачних одговора
Обој кружиће испред израза чији је збир 5. <input checked="" type="radio"/> 2 + 3 <input type="radio"/> 1 + 2 <input checked="" type="radio"/> 4 + 1 <input type="radio"/> 2 + 4 <input type="radio"/> 3 + 5

- Ако завршиш раније, предај тест и тихо изађи.

Желимо ти много успеха на испиту!



ЗАВРШНИ ИСПИТ НА КРАЈУ ОСНОВНОГ ОБРАЗОВАЊА И ВАСПИТАЊА
ТЕСТ
ГЕОГРАФИЈА

1. Шта припада математичким елементима карте?
Обој кружић испред тачног одговора.
- размер карте
- назив карте
- легенда карте
- висинско-дубинска скала
2. Како се називају усијана, гасовита небеска тела?
Обој кружић испред тачног одговора.
- планете звезде астероиди сателити
3. Који морепловац је први стигао до обале Америке?
Обој кружић испред тачног одговора.
- Фернандо Магелан Кристифор Колумбо Марко Поло Васко да Гама
4. Који облик рељефа настаје сударањем континенталних литосферних плоча?
Обој кружић испред тачног одговора.
- клисура планина пећина вртача
5. Шта је фавела?
Обој кружић испред тачног одговора.
- тип насеља тип ушћа реке врста језера тип вегетације
6. Која од наведених делатности припада кварталном сектору?
Обој кружић испред тачног одговора.
- здравство пољопривреда саобраћај индустрија
7. У ком делу Србије се налази Делиблатска (Банатска) пешчара?
Обој кружић испред тачног одговора.
- Шумадија Војводина Косово и Метохија Мачва





8. Како се зове највећа пустиња у Африци?

Обој кружић испред тачног одговора.

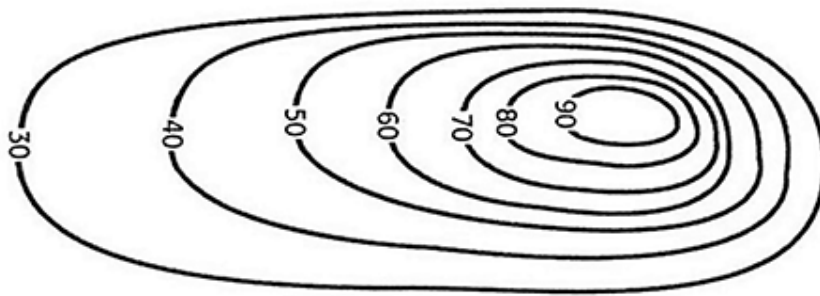
- Калахари Сахара Намиб Гоби

9. Која је најдужа река у Европи?

Обој кружић испред тачног одговора.

- Сава Рајна Волга Дунав

10. Која метода за представљање рељефа је приказана на слици?



Обој кружић испред тачног одговора.

- метода боја метода сенчења метода шрафирања метода изохипси

11. Која јединица мере се користи за растојања у васиони?

Обој кружић испред тачног одговора.

- астрономска година лунарна година светлосна година соларна година

12. Уколико је тврња тачна, обој кружић у колони ТАЧНО, а ако тврдња није тачна, обој кружић у колони НЕТАЧНО.

	ТАЧНО	НЕТАЧНО
Мореуз Дарданели спаја Јадранско и Јонско море.	<input type="radio"/>	<input type="radio"/>
Највећи архипелаг је Малајско-филипински.	<input type="radio"/>	<input type="radio"/>
Суецки канал повезује Средоземно и Црвено море.	<input type="radio"/>	<input type="radio"/>





13. Шта utичe на настанак морских струја?

Обој кружић испред тачног одговора.

- стални ветрови земљотреси вулканске ерупције плима и осека

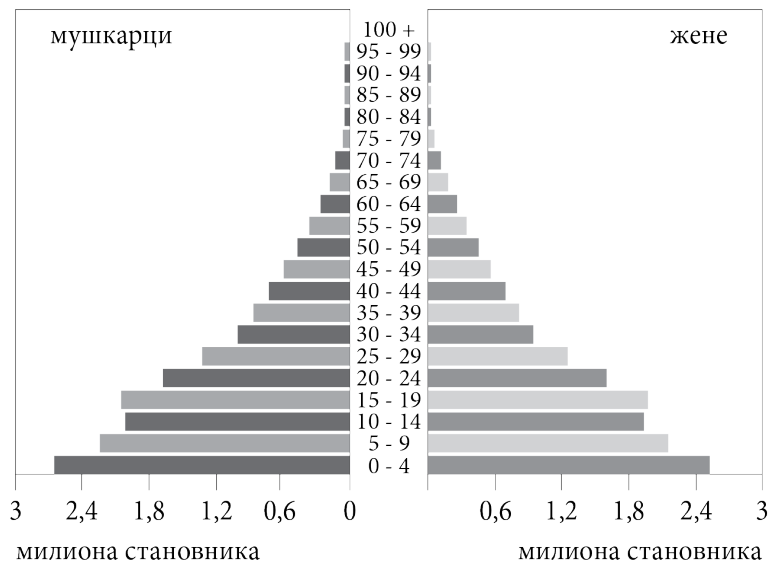
14. Уколико је тврдња тачна, обој кружић у колони ТАЧНО, а ако тврдња није тачна, обој кружић у колони НЕТАЧНО.

	ТАЧНО	НЕТАЧНО
Највише људи насељава низије, долине великих река и приморске области.	<input type="radio"/>	<input type="radio"/>
Највише људи насељава северни умерени топлотни појас.	<input type="radio"/>	<input type="radio"/>
Анекумена је насељени део Земљине површине.	<input type="radio"/>	<input type="radio"/>

15. Шта означава широка основа полно-старосне пирамиде која је приказана на слици?

Обој кружић испред тачног одговора.

- висок наталитет
- висок морталитет
- низак наталитет
- негативан природни прираштај



16. Који део Северне Америке има највећу густину насељености?

Обој кружић испред тачног одговора.

- атлантско приморје САД-а
- Апалачке планине
- централни део Канаде
- тихоокеанско приморје Канаде





17. Дуж западне обале Северне и Јужне Америке дешавају се честе вулканске ерупције и земљотреси. Који процес утиче на то?

Обој кружић испред тачног одговора.

- удаљавање литосферних плоча и раседање
- подвлачење океанске литосферне плоче под континенталну плочу
- интензивно деловање ледничке ерозије и акумулације
- интензивно деловање крашке ерозије и акумулације

18. Који тоplotни појас се простире између јужног повратника и јужног поларника?

Обој кружић испред тачног одговора.

- северни умерени тоplotни појас
- жарки тоplotни појас
- јужни умерени тоplotни појас
- јужни хладни тоplotни појас

19. Шта утиче да тропске кишне шуме имају бујну вегетацију?

Обој кружић испред тачног одговора.

- висока температура и мала количина падавина током целе године
- ниже температуре у сушном делу године
- висока температура ваздуха и велика количина падавина током целе године
- умерена континентална клима

20. Обој кружић у одговарајућем пољу тако што ћеш повезати градове са географским регијама у којима се налазе.

	Северна Европа	Јужна Европа	Западна Европа
Манчестер	<input type="radio"/>	<input type="radio"/>	<input type="radio"/>
Рејкјавик	<input type="radio"/>	<input type="radio"/>	<input type="radio"/>
Милано	<input type="radio"/>	<input type="radio"/>	<input type="radio"/>



ПРАЗНА СТРАНА



ИНТЕРНО

ПРИМЕРАК ЗА ШКОЛУ

Република Србија
МИНИСТАРСТВО ПРОСВЕТЕ
ЗАВОД ЗА ВРЕДНОВАЊЕ КВАЛИТЕТА
ОБРАЗОВАЊА И ВАСПИТАЊА

ЗАЛЕПИТИ ИДЕНТИФИКАЦИОНУ
НАЛЕПНИЦУ

ЗАВРШНИ ИСПИТ НА КРАЈУ ОСНОВНОГ ОБРАЗОВАЊА И ВАСПИТАЊА

ТЕСТ ГЕОГРАФИЈА

ИДЕНТИФИКАЦИОНИ ОБРАЗАЦ

ИМЕ, ИМЕ ЈЕДНОГ РОДИТЕЉА/ДРУГОГ ЗАКОНСКОГ ЗАСТУПНИКА, ПРЕЗИМЕ УЧЕНИКА

ИДЕНТИФИКАЦИОНИ БРОЈ УЧЕНИКА

--	--	--	--	--	--	--	--	--	--

ОСНОВНА ШКОЛА _____

МЕСТО _____

ОПШТИНА _____

ПОТПИС ДЕЖУРНОГ НАСТАВНИКА

